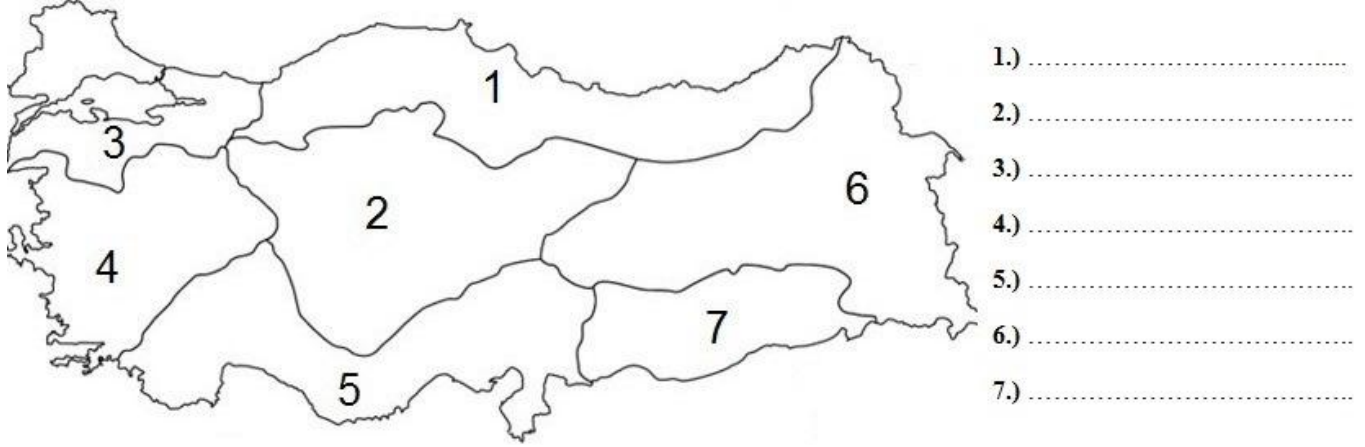


Adı		2015-2016 EĞİTİM-ÖĞRETİM YILI ÇAYIRKENT ŞEHİT NEVZAT ÇATIK ORTAOKULU SOSYAL BİLGİLER DERSİ 5.SINIFLAR I. DÖNEM II. YAZILI SINAVI	PUAN
Soyadı			
No			
Sınıf			

1- Aşağıdaki haritada verilen rakamların hangi bölgelerimizde olduğunu yanlarındaki boşluklara yazınız. (14 puan)



2- Aşağıda verilen cümlelerden doğru olanlara (D), yanlış olanlara (Y) harfini yazınız. (10 puan)

- a- () Akarsular tarafından oluşturulmuş yüksekte kalan düz arazilere **plato** denir.
- b- () Çevresine göre yükseltisi fazla olan kabartılı şekillere **ova** denir.
- c- () Bir dağın en yüksek noktasına **doruk** denir.
- d- () Dağların arasında, akarsuların akıp gittiği derin çukurlara **vadi** denir.
- e- () Deniz seviyesi 500 metreden başlar.


3- Aşağıdaki boşlukları kutudaki uygun kelimelerle doldurunuz. (14 puan)

Meteoroloji Genel Müdürlüğü – TÜİK– Marmara – Güneydoğu Anadolu – İstanbul – Yeşil – Mavi
Ankara – Doğal ortam – Beşeri ortam – Dağınık – Kentsel

- Ülkemizde nüfus sayımları tarafından yapılmaktadır.
- Ülkemizin en yoğun nüfuslu kenti'dur.
- İnsan eliyle oluşturulmuş yapay ortamlara denir.
- Fiziki haritalarda yüksekliği az olan yerler renkle gösterilir.
- Ülkemizde hava olayları tarafından gözlenir, ölçülür ve kaydedilir.
- Karadeniz bölgesinin kırsal kesimlerinde genellikle yerleşmeler görülür.
- Ülkemizde yüksekliği en az olan bölge Bölgesi'dir.

4- Türkiye'de Karadeniz İklimi'nin görüldüğü 6 tane ilimizi yazınız. (6 puan)

5- Aşağıdaki çiçekteki boş yerlere Atatürk ilkelerini yazınız. (6 puan)



6- Aşağıdakilerden hangisi Atatürk zamanında ilk defa kadınlara verilen haklardan biri değildir? (5 puan)

- A.) Seçme-seçilme hakkı
- B.) Boşanma hakkı
- C.) Mirasta eşit pay hakkı
- D.) Okuma yazma hakkı

7- Aşağıdakilerden hangisi bir gruba örnek olarak gösterilebilir? (5 puan)

- A.) Kızılay kulübünde çalışma yapan öğrenciler
- B.) Kırmızı ışıkta bekleyen araçlar
- C.) Sokakta yürüyen insanlar
- D.) Otobüsteki yolcular

8- Ülkemizin dört bir yanı doğal güzellikler ve tarihi eserlerle doludur. Doğal güzellikler doğanın etkisiyle şekillenmiş ve meydana gelmiştir. Tarihi eserler ise insanların geçmişte çeşitli ihtiyaçları için yaptıkları eserlerdir.

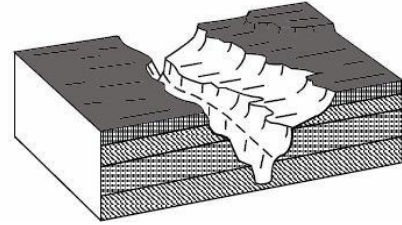
Bu paragrafa göre aşağıdaki eserlerden hangisi ülkemizdeki doğal güzelliklerden biridir? (5 puan)

- A.) Süleymaniye Camii
- B.) Efes Antik Kenti
- C.) Manavgat Şelalesi
- D.) İshakpaşa Sarayı



9- Yukarıdaki gibi bir HORON oyunu izlemek isteyen bir kişi hangi bölgemize gitmelidir? (5 puan)

- A.) Akdeniz
- B.) Karadeniz
- C.) Marmara
- D.) İç Anadolu



10- Yukarıda gösterilen yeryüzü şekli nedir? (5 puan)

- A.) Ova
- B.) Dağ
- C.) Vadi
- D.) Yamaç

11- Ülkemizin soğuk bölgelerinde yaşayan insanlar daha kalın giysiler giyerler. Ev ve iş yerlerini soğuğa karşı daha korunaklı yapar. Sıcak bölgelerdeki insanlar ise daha ince giysiler giyer. Ev ve işyerlerinde sığağa karşı önlemler alırlar. Evlerde ve iş yerlerinde klima bulundururlar.” Bu bilgilere bakılarak aşağıdaki yargılardan hangisine ulaşılabilir? (5 puan)

- A.) Ülkemizde üç çeşit iklim tipi görülür.
- B.) Ülkemizde kışlar çok sert geçer.
- C.) İklim insanların yaşamını etkiler.
- D.) Her iklimin kendine has güzelliği vardır.

12- Akdeniz ve Karadeniz Bölgelerinde dağlar denize ... (1)... uzanırken, Ege Bölgesinde ise ... (2)... uzanır. Yukarıda rakamlarla gösterilen yerlere sırasıyla gelmesi gereken kelimeler aşağıdaki hangi seçenekte verilmiştir? (5 puan)

- A.) dik-dik
- B.) paralel-paralel
- C.) dik-paralel
- D.) paralel-dik

13- Türkiye’de nüfusu yoğun ve kalabalık olan 5 tane ilimizi yazınız. (5 puan)

1.)	4.)
2.)	5.)
3.)	

14- İnsanların doğal ortamları çeşitli şekillerde değiştirmelerine 5 maddeyle örnek veriniz. (10 puan)