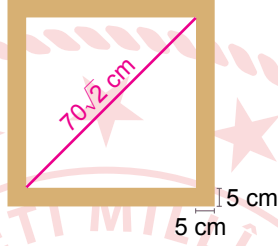


## Matematik Örnek Soruları

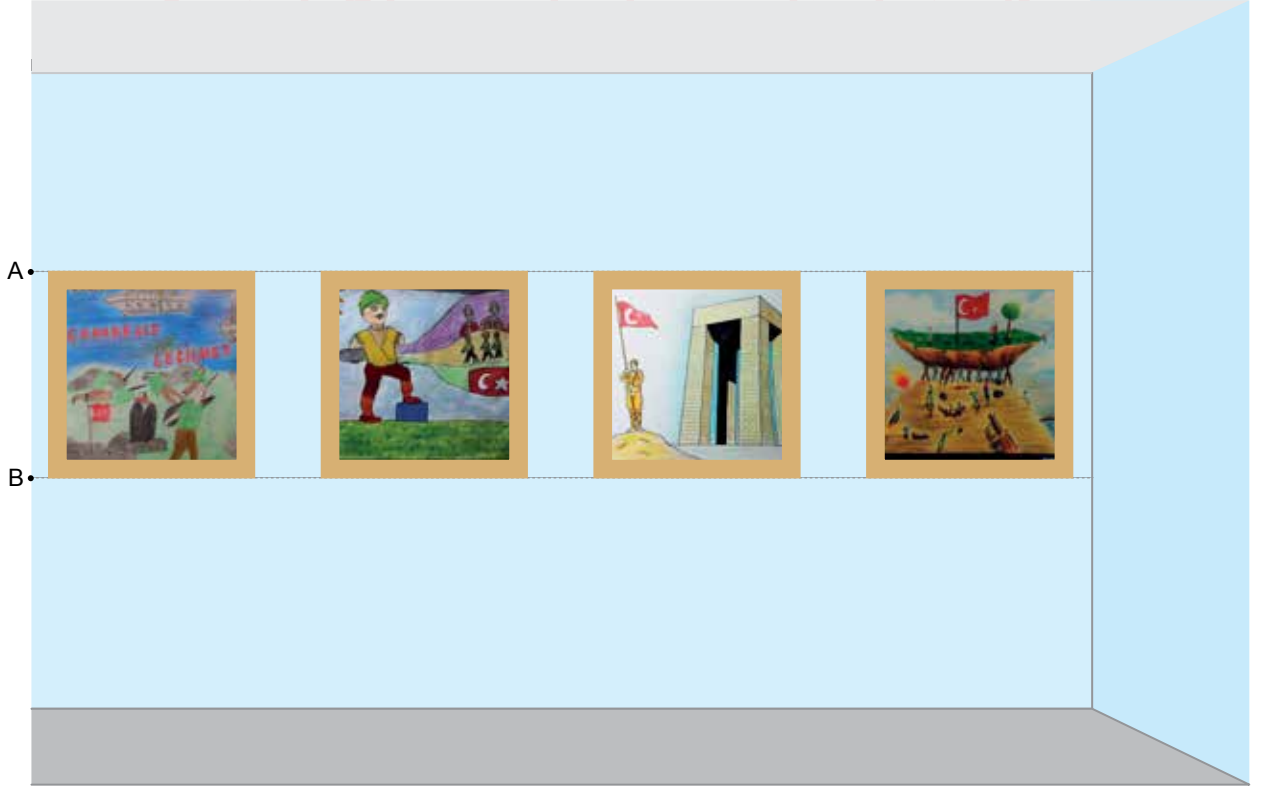
1. Bir kenarı  $a$  olan karenin köşegen uzunluğu  $a\sqrt{2}$ 'dir.



Bir okuldaki 8. sınıf öğrencilerinin "18 Mart Çanakkale Şehitlerini Anma Günü" nedeniyle yaptığı bazı resimler, 5 cm kalınlığında ve köşegen uzunluğu  $70\sqrt{2}$  cm olan kare şeklinde eş çerçevelerin içine konuluyor.



Bu çerçeveler aşağıdaki şekilde görüldüğü gibi okul koridorunda üstten A noktası, alttan B noktası ile aynı hizada ve zemine paralel olacak şekilde yan yana diziliyor.



A noktasının zeminden yüksekliği, B noktasının zeminden yüksekliğinin iki katından azdır.

**Buna göre B noktasının zeminden yüksekliğinin santimetre cinsinden alabileceği en küçük tam sayı değeri kaçtır?**

A) 79

B) 80

C) 81

D) 82

2. Aşağıda bir basketbol maçındaki oyuncuların forma numaraları verilmiştir.



Bu maçta oyuncular forma numaralarının karekökünün en yakın olduğu tam sayı kadar basket atıyorlar.

**Alp ile aynı sayıda basket atan başka bir oyuncu olmadığına göre Alp'in forma numarası kaçtır?**

A) 12

B) 20

C) 40

D) 53

3. Ahmet ile Deniz aralarında sırasıyla birer tane pozitif tam sayı söyledikleri bir sayı oyunu oynuyorlar. Oyuncunun söylediği sayı kadar puan kendisine, söylediği sayının kendisi hariç pozitif tam sayı bölenlerinin toplamı kadar puan rakibine yazılıyor. Toplam puanı fazla olan oyuncu oyunu kazanıyor.

Örneğin Ahmet 10, Deniz 12 sayılarını söylemiş olsunlar.

Söylenen Sayı	Söyleyen	Ahmet'in Aldığı Puan	Deniz'in Aldığı Puan
10	Ahmet	10	$1 + 2 + 5 = 8$
12	Deniz	$1 + 2 + 3 + 4 + 6 = 16$	12

Oyunda Ahmet toplam 26, Deniz toplam 20 puan aldığından oyunu Ahmet kazanır.

**Buna göre Ahmet'in 14 sayısını söylediği oyunda, Deniz aşağıdaki sayılardan hangisini söylerse oyunu kazanır?**

A) 18

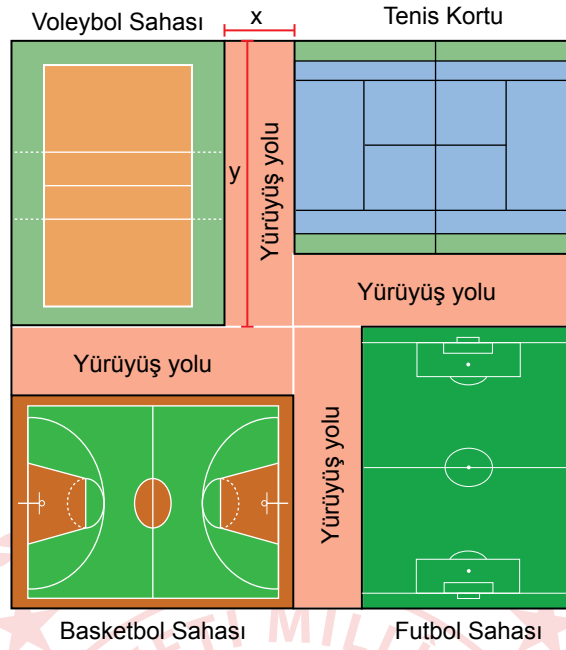
B) 20

C) 25

D) 36



4. Aşağıda bir spor kompleksinin krokisi verilmiştir.



Bu spor kompleksi kısa kenarının uzunluğu  $x$  metre, uzun kenarının uzunluğu  $y$  metre olan dikdörtgen şeklinde dört özdeş yürüyüş yolu, dikdörtgen şeklindeki birer voleybol, basketbol ve futbol sahası ile bir tenis kortundan oluşmaktadır.

**Buna göre bu spor kompleksinde basketbol sahası olarak ayrılan bölgenin metrekare cinsinden alanını gösteren cebirsel ifade aşağıdakilerden hangisidir?**

A)  $x^2 - xy$

B)  $y^2 - xy$

C)  $x^2 - 2xy$

D)  $y^2 - 2xy$

5. Bir olayın olma olasılığı =  $\frac{\text{İstenilen olası durumların sayısı}}{\text{Tüm olası durumların sayısı}}$

Kerem boş olan kumbarasına sadece 1 liralık ve 50 kuruşluk madeni paralar atarak para biriktiriyor. Bu parayla bir oyuncak helikopter almak için oyuncakçıya gidiyor. Kumbarasındaki para aşağıda fiyatları verilen helikopterlerden pahalı olanı almaya yetmediği için ucuz olanı alıyor.



Kerem'in kumbarasında biriken paraların arasından rastgele çekilen bir madeni paranın 1 lira olma olasılığı  $\frac{1}{5}$ 'tir.

**Buna göre Kerem'in helikopteri aldıktan sonra kaç lirası kalmıştır?**


A) 1

B) 2


C) 3

D) 4

6. Kasasının yerden yüksekliği 1,4 metre olan kamyonete küp şeklindeki eş kolilerden üst üste dört sıra yüklenmiştir.



Bu kamyonet, gideceği yol üstündeki yükseklik sınırı 3,5 m olan yaya geçidinin altından yaya geçidine değmeden geçebilmektedir.



Buna göre kolilerin bir ayrıt uzunluğunun santimetre cinsinden alabileceği en büyük tam sayı değeri kaçtır?

A) 53

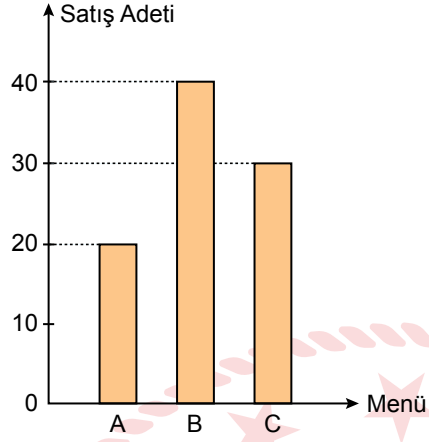
B) 52

C) 51

D) 50

7. Bir lokanta A, B ve C menülerinden günlük belli sayıda hazırlayıp gün içinde müşterilerine satmaktadır. Aşağıdaki grafikte bu lokantada 23 Nisan 2018 tarihinde A, B ve C menülerinden kaçar tane satıldığı gösterilmiştir.

Grafik: 23 Nisan 2018 Tarihindeki A, B ve C Menülerinin Satış Adetleri



Söz konusu tarihte en fazla B menüsü, en az C menüsü hazırlanmış ve hazırlanan B menüsünün tamamı satılmıştır.

**Verilen tarihte hazırlanıp da satılmayan menü sayısı en çok kaçtır?**

A) 30

B) 29

C) 28

D) 27

8. Aşağıdaki görselde 100 kişilik bir sinema salonundaki bilet fiyatları verilmiştir.



Bu sinema salonundaki bir film gösterimi sırasında 18 koltuğun boş olduğu ve indirimli bilet alan izleyici sayısının tam bilet alan izleyici sayısının 3 katından 2 fazla olduğu görülmüştür.

**Buna göre bu film gösterimi için izleyicilerin ödediği toplam ücret kaç TL dir?**

A) 940

B) 900

C) 860

D) 820





9. Hayat, sınıf arkadaşlarıyla ektirdiđi bir resmi arkadaşlarına aldıđı tiřörtlerin n yzne bastırmıřtır.

Resmin basıldıđı alan tiřrtlerin geniřliđi ile uzunluđunun arpılması ile bulunan alanın % 10'una karřılık gelmiř ve yapılan baskıların bir santimetrekaresi iin 10 kuruř denmiřtir.



Beden	Geniřlik	Uzunluk
S	50 cm	76 cm
M	55 cm	80 cm

Hayat'ın aldıđı S beden tiřrt sayısı, M beden tiřrt sayısının 2 katından 1 fazladır.

**Hayat, yaptırdıđı baskılar iin toplam 278 lira dediđine gre ka tane M beden tiřrt almıřtır?**

A) 1

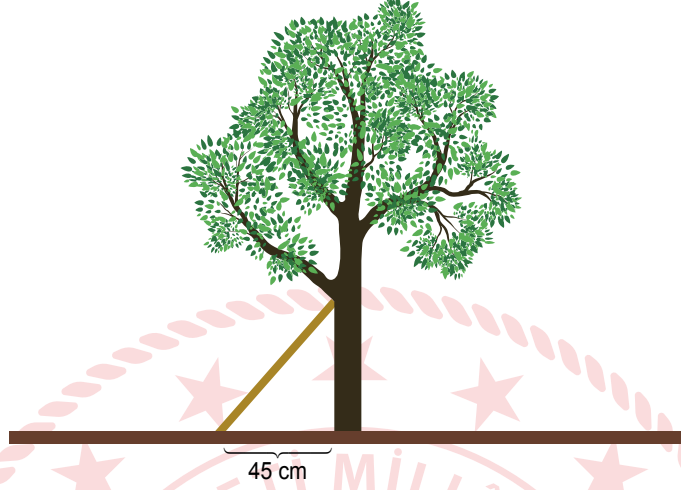
B) 2

C) 3


D) 4

10. Eğim, dikey uzunluğun yatay uzunluğa oranıdır.

Bir çiftçi bahçesindeki ağacın sola doğru eğildiğini fark edip ağacın 45 cm uzağından bir destek koyarak ağacı dik konuma getirmiştir.



Bir süre sonra ağacın sağa doğru eğildiğini fark eden çiftçi bu defa ağacın 60 cm uzağından ikinci bir destek koyarak ağacı dik konuma getirmiştir.



İki desteğin ağaca değdiği noktaların yerden yükseklikleri arasındaki fark 20 cm ve desteklerin eğimleri eşit olduğuna göre ilk desteğin ağaca değdiği noktanın yerden yüksekliği kaç santimetredir?

A) 60

B) 50

C) 40

D) 30