

# A. İLK TÜRK DEVLETLERİNDE EKONOMİ

Eskişehir Salih Zeki Anadolu Lisesi  
Nurdan Gül KÖKTEN



Kısrak sütünden üretilen  
kımız, darıdan yapılan  
begni-bekni ve boza  
Türklerin bilinen  
içecekleriydi



Türklerin bilinen en eski  
içecekleri nelerdir

Nurdan Gül kökten

-Cilalı Tas Devri'nde yiyecek olarak kullanılmak üzere çeşitli bitkiler yetiştirilmeye başlanmış, su kıyılarında birbirine bitişik bahçeli evler yapılmış, taşlardan yapılan alet ve silahlar daha kesici hale getirilmiş, bitki liflerinden giysiler, yiyecekleri saklamak için topraktan çanak çömlek yapılmıştır.

Bu açıklamada, Cilalı Tas Devri'nde aşağıdakilerden

-hangisinin gerçekleşmiş olduğunu gösteren bir kanıt yoktur?

- A) Yerleşik hayata geçilmesi
- B) Topraktan eşya yapılması
- C) Kullanılan silahların geliştirilmesi
- D) Tarım üretimine geçilmesi
- E) Yazının bulunması



Akarsu  
boylarında



Su kanalları




Un Değirmeni  
www.kabarpiggeni.com

Tarm yapıldığına dair belirtiler  
nelerdir

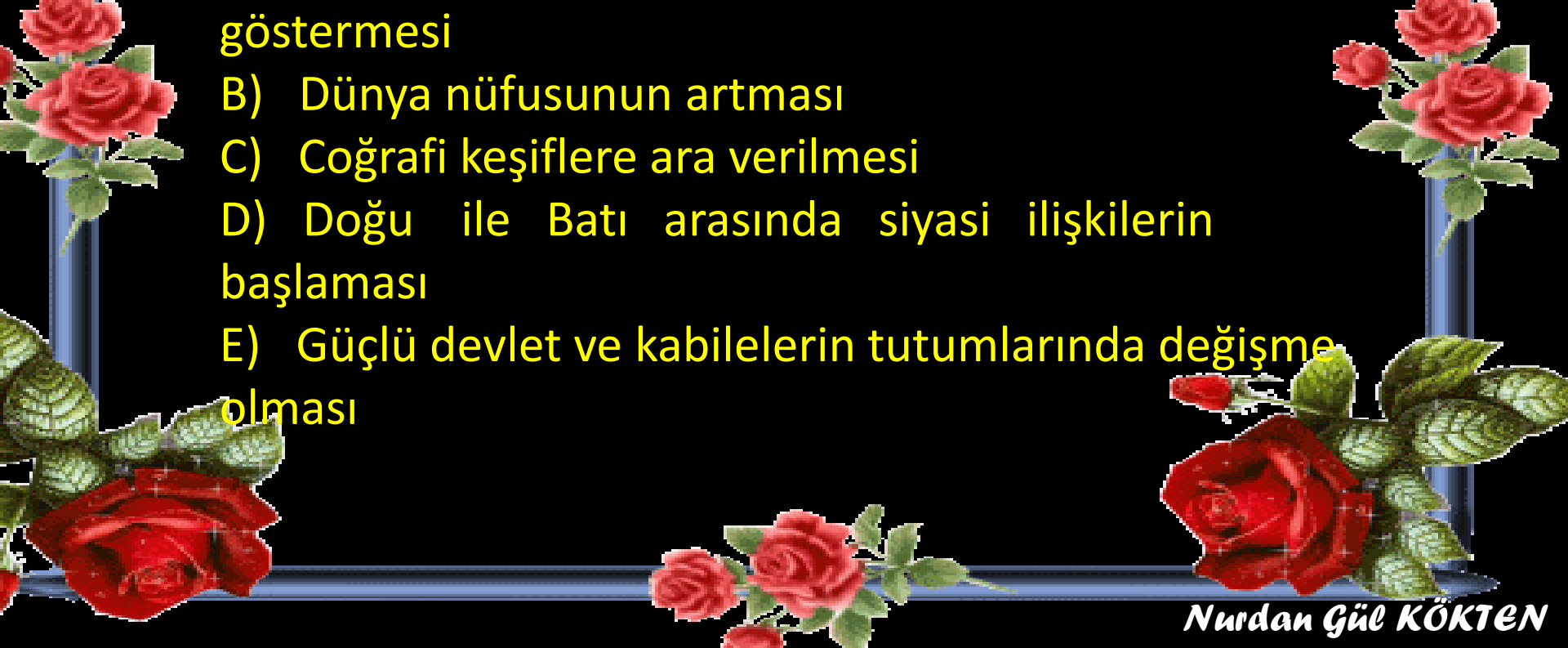
*Nurdan Gül KÖKTEN*

Türkçe'de buğday, arpa, darı gibi tahıl adları ile altın, gümüş, bakır, kurşun, demir gibi metal adlarının bulunması ve kurganlardan kılıç, süngü, bıçak ve balta gibi silahların çıkması, **Türklerle ilgili olarak aşağıdakilerden hangisine bir kanıt olamaz?**

- A) Tarım ürünlerini tanıdıklarına
- B) Savunma amacıyla kullanılabilecek araçlar edindiklerine
- C) Mezarlara kişisel eşyaların da konulduğuna
- D) Metal eşyalardan yararlandıklarına
- E) Komşu ülkelerle iyi ilişkiler içinde olduklarına



Çin'den başlayarak Ön Asya'ya ulaşan İpek Yolu'nun geçtiği yerler zaman zaman değişmiştir. Bu gelişmelerde aşağıdakilerden hangisi etkili olmuştur?

- A) Gereksinim duyulan maddelerin çeşitlilik göstermesi
  - B) Dünya nüfusunun artması
  - C) Coğrafi keşiflere ara verilmesi
  - D) Doğu ile Batı arasında siyasi ilişkilerin başlaması
  - E) Güçlü devlet ve kabilelerin tutumlarında değişme olması
- 



Selenga Nehri ile Baykal Gölü kıyılarında yapılan kazılarda, hunlar Dönemi'nde yapılmış,

I. Sulama kanalları

II. Tahılları saklamak için özel açılmış çukurlar

III. Tahılları öğütmek için kullanılan taşlar

IV. Saban demirleri ve oraklar

bulunmuştur

Bu buluntulardan hangileri, Hunlar Dönemi'nde tarım yapıldığının doğrudan kanıtıdır?

A) Yalnız I

B) Yalnız II

C) I ve III

D) I ve IV

E) II, III ve IV

İslamiyet'ten önce Türk sanatında, hayvanları ve bu hayvanların birbirleriyle mücadelelerini gösteren motifler ön planda olmuştur. Bu motifler kemer tokası, kılıç, hançer kabzası, süs eşyası, koşum takımı gibi taşınabilir malzeme üzerine işlenmiştir. Eski Mısır'da aristokrat mezarlarının duvarlarına yiyecek, içecek, tohum ekimi, ekmek fırını, balık ve kuş avını gösteren resimler yapılmıştır.

Bu iki durum aşağıdakilerden hangisinin göstergesidir?

- A) Yeraltı zenginlikleri bol olan yörelerde sanatın erken geliştiğinin
- B) Sanatın, yerleşik yaşama geçtikten sonra başladığının
- C) Sanatın toplumların yaşam koşullarını yansıttığının
- D) El sanatlarının gelişmesinde ticaretin önemli bir rolü olduğunun
- E) Sanata verilen önemin toplumdaki topluma değiştiğinin





**ALDIKLARI**  
ipekli dokuma, çini, cam  
,kağıt,tahıl,giyim eşyası

**SATTIKLARI**  
Canlı hayvan,deri,kürk,hayvan  
ürünleri,At,kösele,konserve et

*Türkiyenin yaşadığı tarihten itibaren ticaretle ticaretle  
aldıkları ve sattıkları ürünlere ilişkin yukarıdaki  
tabloyu tamamlayınız.*

*Nurdan Gül KÖKTEN*



ASYA HUN

GÖKTÜRKLER

UYGURLAR

SELÇUKLULAR

KARAHANLILAR


ÇİN

GAZNELİLER

*İpek yolunun geçtiği yerlerdeki Devletleri söyleyiniz*

*Nurdan Gül KÖKTEN*

# İpek Yolu'nun Asya güzergâhı



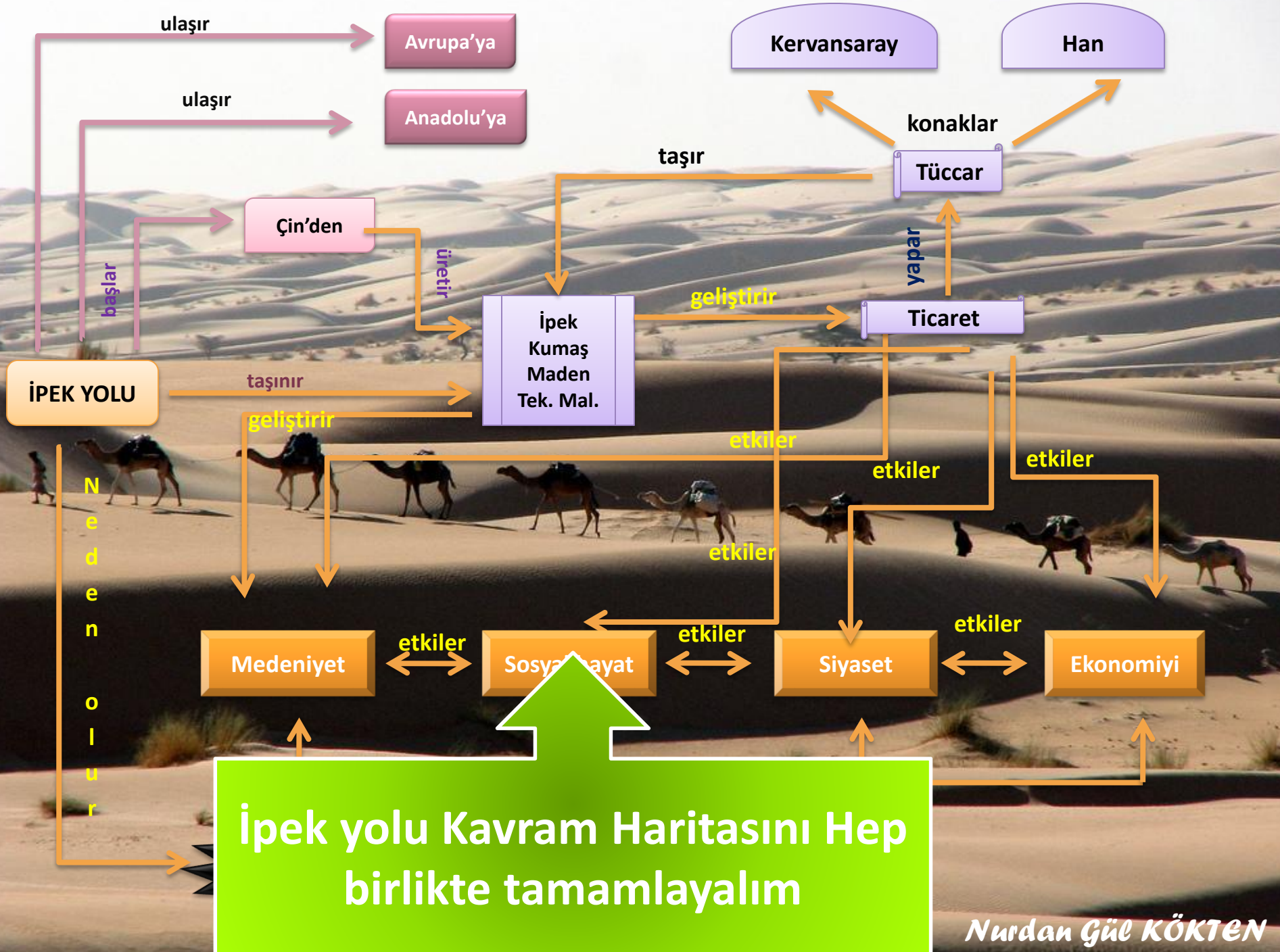
KÜRK YOLU

sincap, sansar, tilki, samur,  
kunduz, vaşak vb. hayvan  
kürkleri ...

İPEK YOLU

BAHARAT YOLU

*Sizce Kürk yolunun ticari malları neler olabilir*



**Türkler bu yolu daima açık ve güvenlik altında tutmaya yönelik siyaset izlemişlerdir.**

**Bizans ve Çin gibi devletlerle anlaşmalar yapmışlardı.**

**İpek yolu üzerinde pazarlar kurulmuştur**

**Türkler ticareti geliştirmek için  
Ne gibi tedbirler almışlardır**

Hunların **İpek Yolu**'nu Çinlilere kaptırmaları ekonomik yönden zayıflamalarına yol açtı. Hun imparatoru Hohanyeh, Çin himayesine girmenin doğru olacağı fikrini savundu. Fakat Hun devlet meclisi bu görüşü utanç verici gördü. Sonunda bu tartışma devleti ikiye böldü.

Aşağıdakilerin hangisi, bu ifadelerden çıkarılabilecek bir yargı değildir?

A-İktisadi sıkıntılar ve görüş ayrılığı bölünmeye neden olmuştur

B-Devlet Meclisi bağımsızlık fikrine bağlı kalmıştır

C-Ülkenin geleceğini etkileyecek görüşler mecliste tartışılmıştır

D-Bölünmeden sonra Hunların tamamı Çin egemenliğine girmiştir

E-İpek yolu ticareti ekonomik gücü belirleyen temel etkendir

Baharat ve İpeđi Uzak Dođu'dan Avrupa'ya taşımada kullanılan yolların deđişmesi, aşıđıdaki devletlerden hangisinin ekonomi sini olumsuz yönde etkilemiştir?

- A) Osmanlı Devleti
- B) İnşıtođulları Devleti
- C) Büyük Selçuklu Devleti
- D) Altınordu Devleti
- E) Tulunođulları Devleti



İslamiyet'ten önceki Türk devletleri Türgişler'e kadar para yerine daha çok üzeri resmi damgalı ipek parçaları kullanmıştır. Türgişler döneminde ise para kullanmaya başlamışlardır.