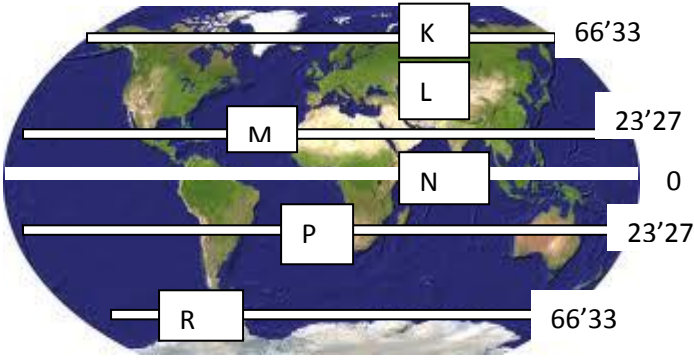


Erzincan Kazım Karabekir Anadolu Lisesi Coğrafya Dersi 1.Dönem 2.Yazılı Soruları Ortak Sınav (9.sınıf)

1)AŞAĞIDAKİ HARİTADA GÖSTERİLEN MERKEZLERLE İLGİLİ YANDAKİ SORULARI YANITLAYINIZ.



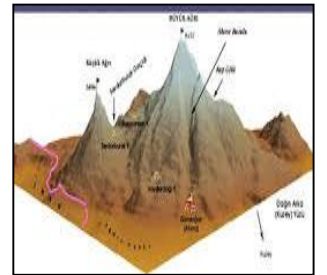
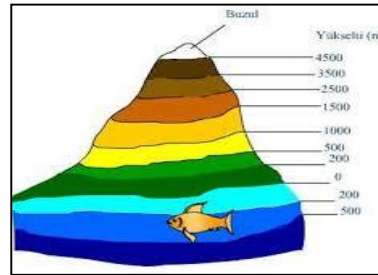
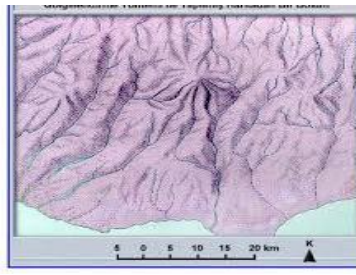
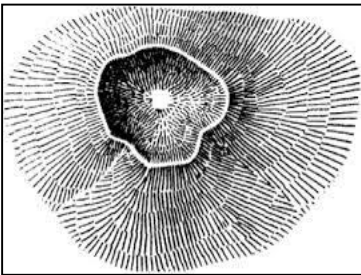
- 1)Çizgisel hızın en fazla olduğu merkez (.....)
- 2)Mevsimlerin belirgin olarak yaşandığı merkez(.....)
- 3)Güneş ışınlarının dik düştüğü merkezler(.....ve.....)
- 4)Yıl içerisinde gece gündüz süre farkı en fazla olan Merkezler (.....ve.....)
- 5)Yer çekiminin en fazla olduğu merkezler(.....ve.....)

2)AŞAĞIDA VERİLEN DÜNYA VE TÜRKİYE HARİTALARI AYNI BÜYÜKLÜKTEKİ KAĞITLARA ÇİZİLMİŞTİR. BU HARİTALARLA İLGİLİ TABLODA VERİLEN BİLGİLERİ UYGUN ŞEKİLDE CEVAPLAYINIZ.





ÖZELLİKLER	DÜNYA HARİTASI	TÜRKİYE HARİTASI
ÖLÇEĞİN PAYDASI		
GÖSTERDİĞİ ALAN		
AYRINTI		
KÜÇÜLTME ORANI		
BOZULMA ORANI		


3)AŞAĞIDA RESİMLERLE GÖSTERİLEN, YERYÜZÜ ŞEKİLLERİNİN GÖSTERME YÖNTEMLERİNİN İSİMLERİNİ YAZINIZ.



4)AŞAĞIDAKİ SORULARI YANITLAYINIZ.



Kesir ölçekte 1cm'nin kaç km'yi gösterdiğini bulunuz.



Çizgi ölçeği kesir ölçeğe çeviriniz.

